

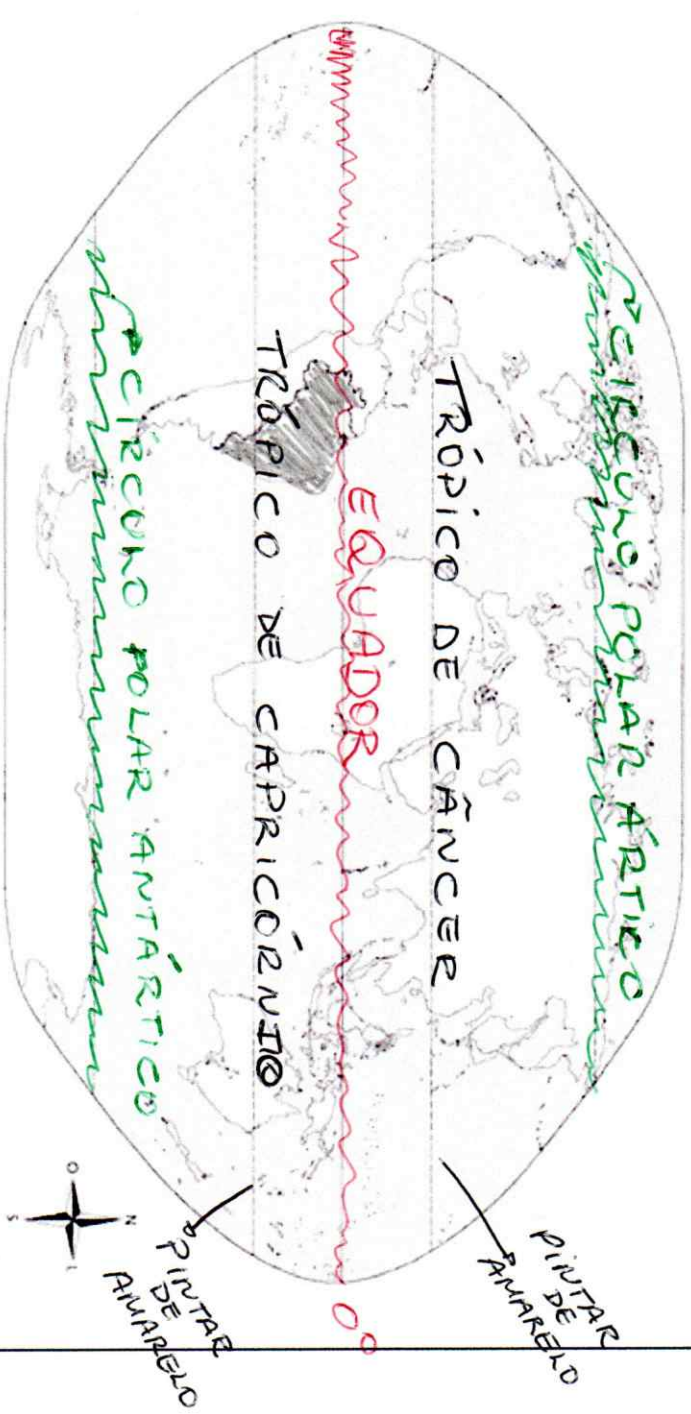
Observe o arquivo planisfério IBGE e o Arquivo SC\_GEO\_CARTOGRAFIA e faça o que se pede nas questões abaixo.

Paralelos e meridianos são linhas imaginárias traçadas em um mapa. São utilizados para localizar qualquer ponto na superfície da Terra. Servem também como orientação do mapa.

**Paralelos principais**

- 1. No planisfério, pinte de vermelho o paralelo de 0° (zero grau).
- 2. Escreva no mapa o nome desse paralelo.

- 3. Pinte de amarelo os trópicos.
- 4. Escreva no mapa o nome dos trópicos.
- 5. Pinte de verde os círculos polares.
- 6. Escreva no mapa o nome dos círculos polares.
- 7. Escolha uma cor e pinte o Brasil.



ESCALA  
0 2 350  
QUILÔMETROS

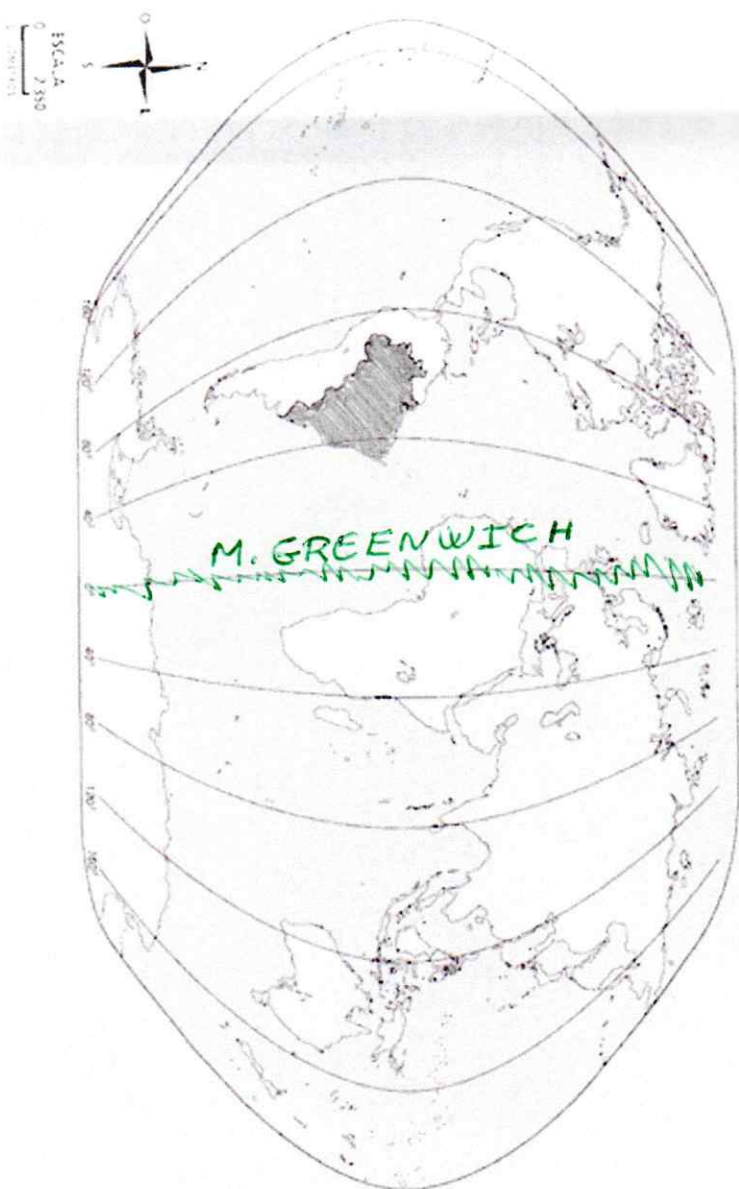


PINTAR  
DE  
AMARELO

Observe o arquivo planisfério IBGE e o Arquivo SC\_GEO\_CARTOGRAFIA e faça o que se pede nas questões abaixo.


### Planisfério com meridianos

8. No planisfério, pinte de verde o meridiano de 0°.
9. Escreva no mapa o nome do meridiano principal.
10. Escreva nas setas o nome dos lugares que elas apontam.
11. Escolha uma cor e pinte o Brasil.




### 12. Complete as lacunas.

- a) O maior paralelo da esfera terrestre, a igual distância dos polos, recebe o nome de EQVADOR
- b) Os PARALELOS tornam-se menores à medida que se afastam do EQVADOR e se aproximam dos polos.
- c) Os paralelos importantes que passam pelo Brasil são: EQVADOR, TRÓPICO DE CARICÍANZO
- d) Os MERIDIANOS são linhas imaginárias que passam pelos dois polos, dando a volta completa na Terra.




Observe o arquivo planisfério IBGE e o Arquivo SC\_GEO\_CARTOGRAFIA e faça o que se pede nas questões abaixo.

6. Pinte de verde o meridiano de 0°.
7. Escreva no mapa o nome do meridiano que divide a Terra em hemisfério leste e hemisfério oeste.
8. Pinte com cores diferentes, exceto azul, o hemisfério leste e o hemisfério oeste. Depois complete a legenda.
9. Pinte o contorno do Brasil com preto.



**LEGENDA**

	Hemisfério Oeste ou Ocidental
	Hemisfério Leste ou Oriental



10. Complete as lacunas.
  - a) O Meridiano de Greenwich é utilizado como referência para se determinar o hemisfério Oeste (Occidental) hemisfério Leste (Oriente)
  - b) O Brasil se localiza totalmente no hemisfério Oeste (Occidental)
11. Desenhe no mapa um círculo que esteja, ao mesmo tempo, nos hemisférios norte e oeste.
12. Desenhe no mapa um quadrado que esteja, ao mesmo tempo, nos hemisférios sul e leste.